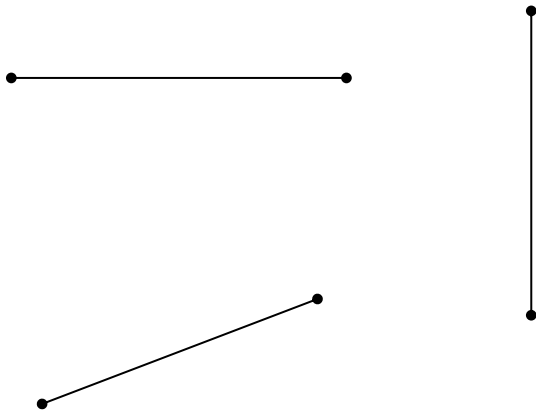


Halla la mediatriz de los siguientes segmentos



Mediante el compás, traza la paralela de la recta

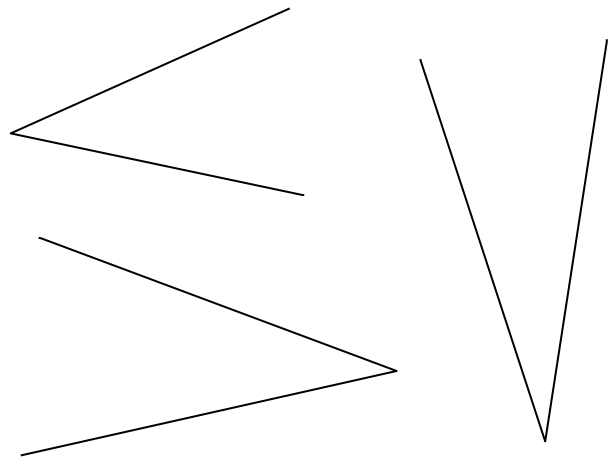


Mediante el compás, traza la perpendicular a la recta desde el punto exterior P

xP



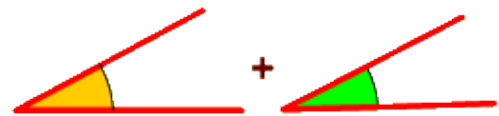
Traza la bisectriz de los siguientes ángulos



Transporta el siguiente ángulo sobre la recta



Suma y resta los siguientes ángulos sobre las rectas respectivas



Suma

Resta

Lámina: 27

TEMA 7.-TRAZADOS GEOMÉTRICOS. RECTAS Y ÁNGULOS

NOTA

CURSO IESO

PROF.:

NOMBRE: